



ВПР ПО ГЕОГРАФИИ В 7 КЛАССЕ

Пытка или испытание?

Территория, численность и возрастной состав населения некоторых стран, 2017 г.

Страна	Площадь территории, км ²	Численность населения, млн человек	Доля населения, %		
			в возрасте до 15 лет	в возрасте от 15 до 65 лет	в возрасте 65 лет и старше
1) Бразилия	8 358 140	211	22	69	9
2) Великобритания	229 946	66	17	65	18
3) Нигер	1 266 700	22	49	48	3
4) Япония	364 485	126	13	59	28

12

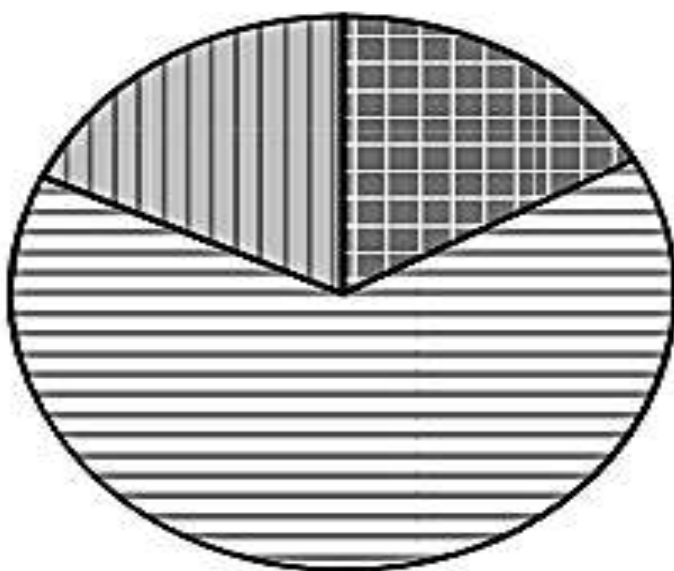
Расположите страны в порядке **увеличения** численности населения, начиная со страны с самой маленькой численностью. Запишите в ответе последовательность порядковых номеров этих стран.

Ответ:

--	--	--	--

13

Возрастной состав населения какой страны отражает представленная на рисунке диаграмма?
Запишите в ответе название страны.



доля населения
в возрасте до 15 лет



доля населения
в возрасте от 15 до 65 лет



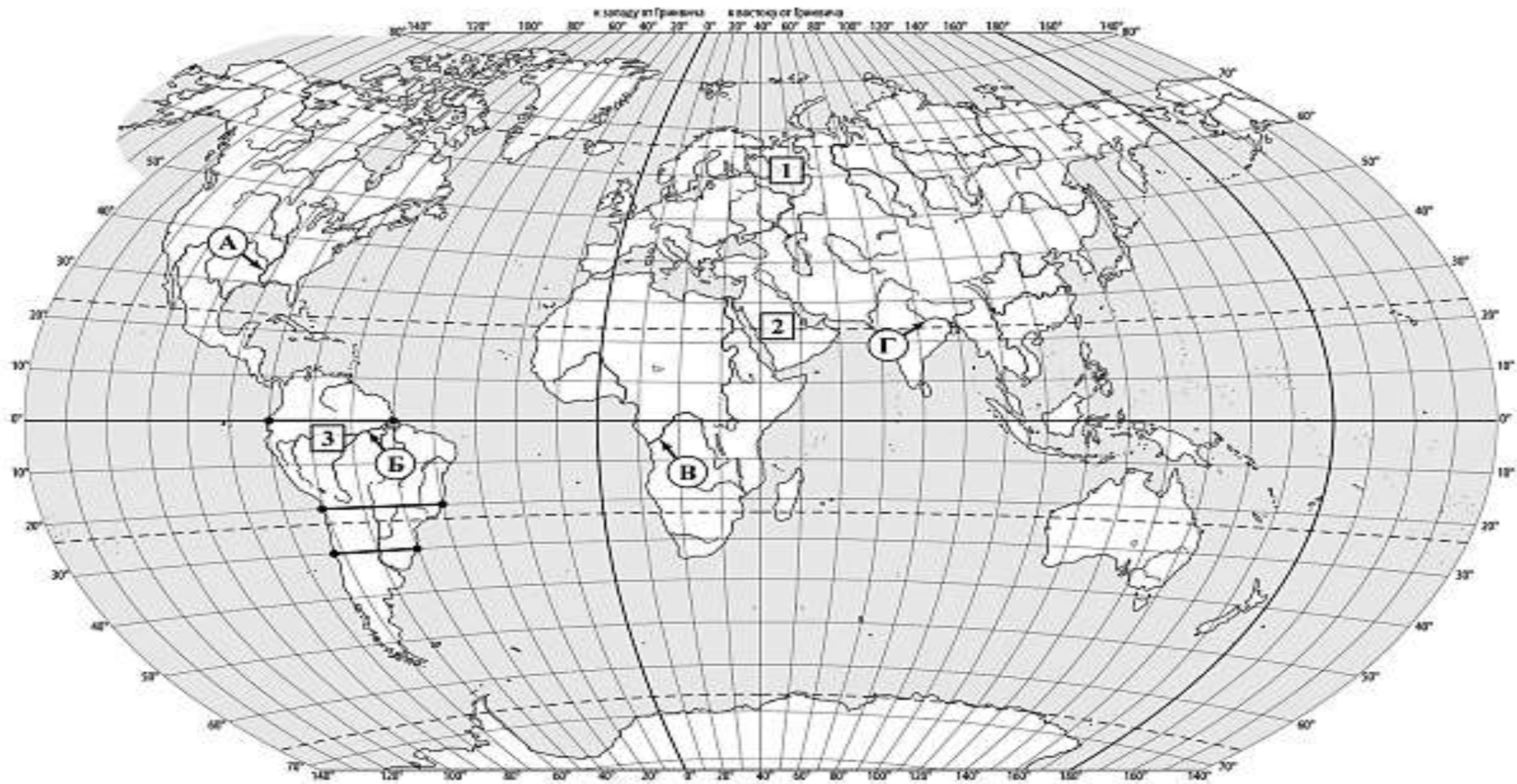
доля населения
в возрасте 65 лет и старше

Ответ: _____

14

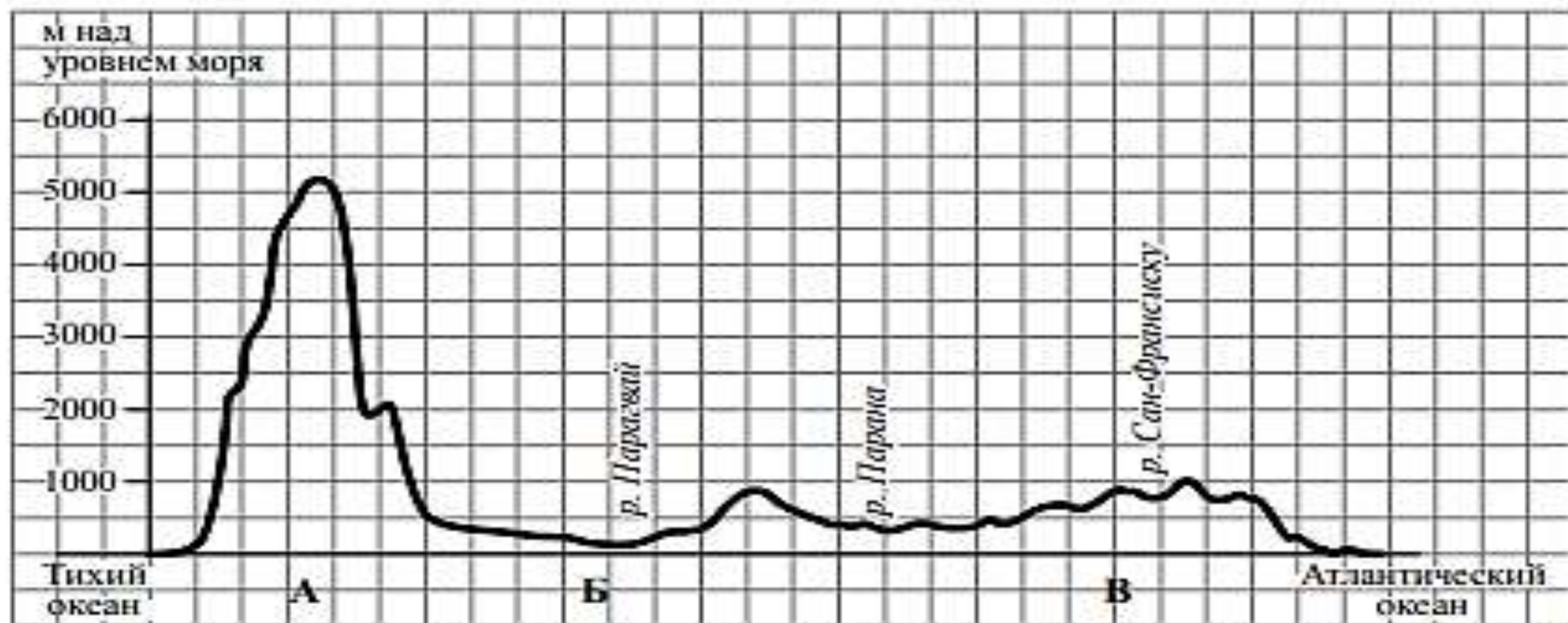
Определите, в какой из представленных в таблице стран средняя плотность населения наибольшая. Запишите в ответе название страны.

Ответ: _____



3

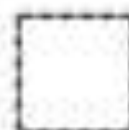
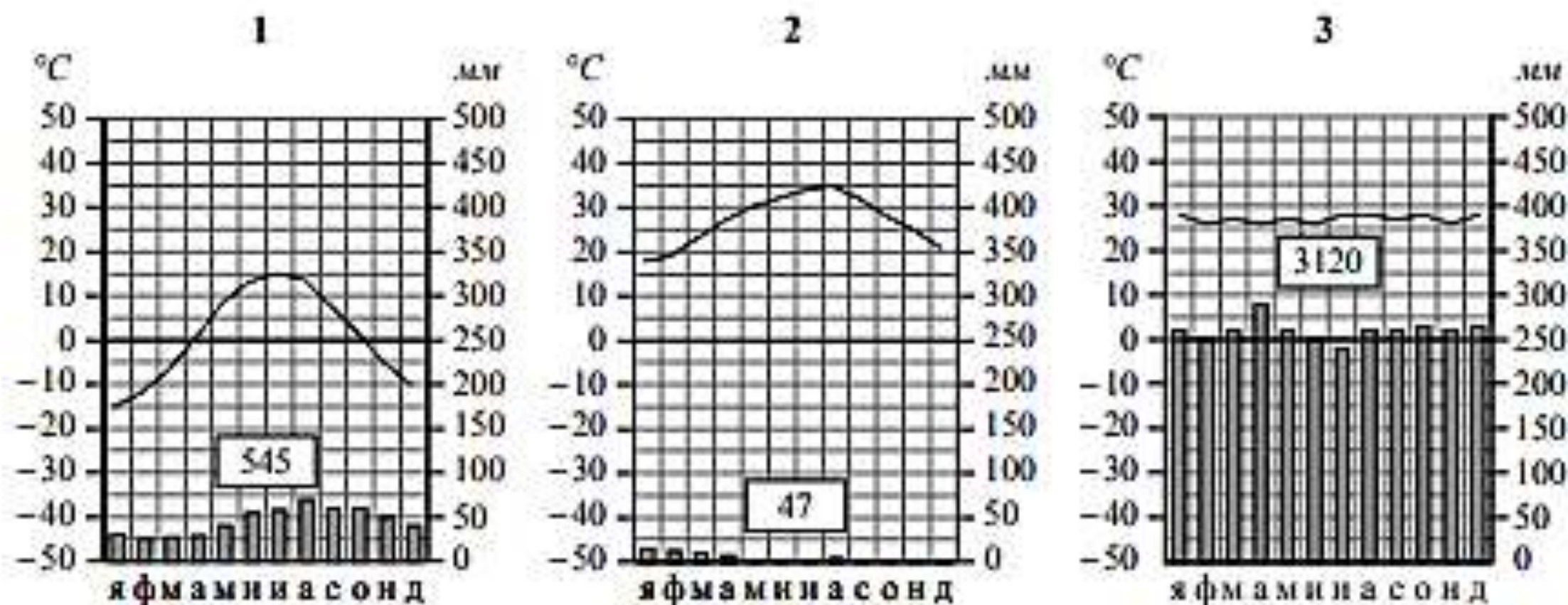
На уроке географии Сергей построил профиль рельефа Южной Америки, представленный на рисунке. По какому из отрезков, проведённых на карте вдоль трёх параллелей, пересекающих материк Южная Америка, построен профиль рельефа, представленный на рисунке? Укажите в ответе эту параллель.



Ответ: _____

6

На карте мира пункты, для которых построены изображённые на рисунках климатограммы, обозначены цифрами, соответствующими номерам климатограмм. Определите, какому климатическому поясу соответствует каждая климатограмма. Подпишите названия климатических поясов под соответствующими климатограммами.



Спасибо за внимание